


BAKI MODERN MƏKTƏBİ

МАЛОЕ СУММАТИВНОЕ ОЦЕНИВАНИЕ

ПРЕДМЕТ	КЛАСС	ДАТА	ВАРИАНТ	УЧЕНИК	ОЦЕНКА
ВСЕОБЩАЯ ИСТОРИЯ	8P__	01.2016	A		

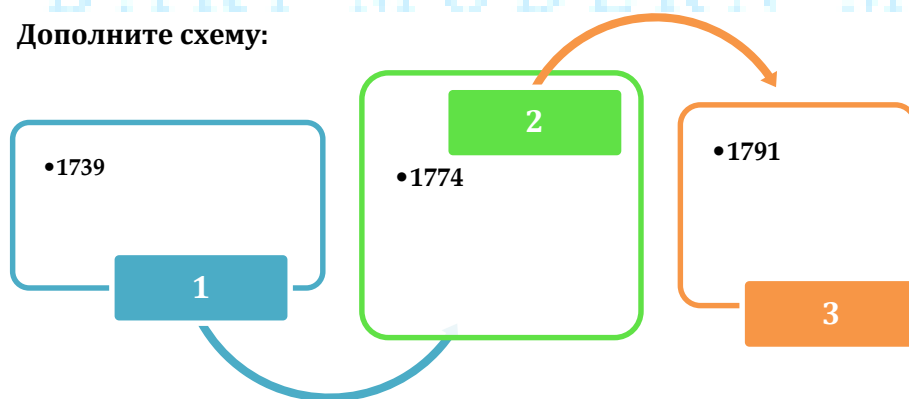
1	2	3	4	5	6	7	8	9	10	11	12	13	14	15	16	17	18	19	20
(a)	(a)	(a)	(a)	(a)	(a)	(a)	(a)	(a)	(a)	(a)	(a)	(a)	(a)	(a)	(a)	(a)	(a)	(a)	(a)
(b)	(b)	(b)	(b)	(b)	(b)	(b)	(b)	(b)	(b)	(b)	(b)	(b)	(b)	(b)	(b)	(b)	(b)	(b)	(b)
(c)	(c)	(c)	(c)	(c)	(c)	(c)	(c)	(c)	(c)	(c)	(c)	(c)	(c)	(c)	(c)	(c)	(c)	(c)	(c)
(d)	(d)	(d)	(d)	(d)	(d)	(d)	(d)	(d)	(d)	(d)	(d)	(d)	(d)	(d)	(d)	(d)	(d)	(d)	(d)
(e)	(e)	(e)	(e)	(e)	(e)	(e)	(e)	(e)	(e)	(e)	(e)	(e)	(e)	(e)	(e)	(e)	(e)	(e)	(e)

1. Дополните участников «Священный союза»:



- A) Венеция
- B) Германия
- C) Венгрия
- D) Голландия
- E) Франция

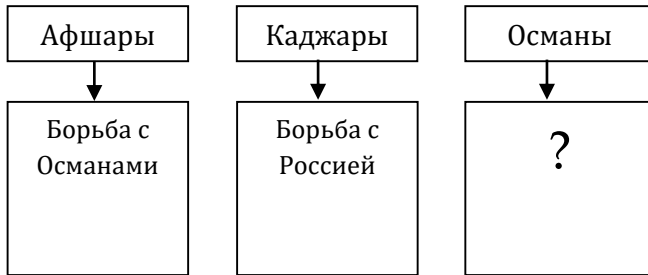
2. Дополните схему:



- A) 1-Васвар, 2-Вена, 3-Белград
- B) 1-Париж, 2-Лондон, 3-Берлин
- C) 1- Белград, 2-Кичик Кайнарджа, 3-Яссы
- D) 1-Яссы, 2-Васвар,3-Париж
- E) 1- Кичик Кайнарджа, 2- Белград, 3- Васвар

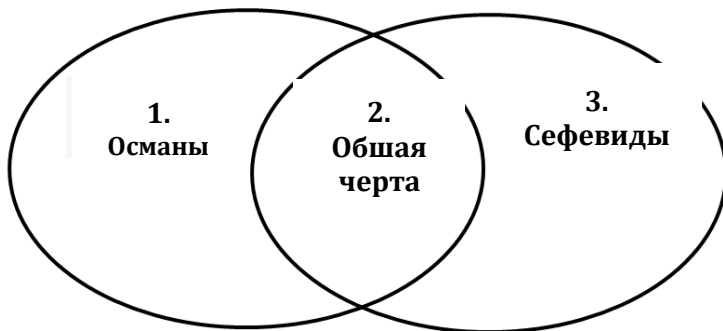
3. Дополните схему :

В XVIII веке....



- A) Борьба с моголами
- B) Борьба с самураями
- C) Борьба с Францией
- D) Борьба с арабами
- E) Борьба с Сефевидами

4. Сравните Османское и Сефевидское государство на основе диаграммы Венна:



- a) Дипломатические связи с Европейскими государствами
 - b) Договоры с Россией
 - c) Войны с Австрией
 - d) Восстание в стране в XVIII веке
 - e) Военная интервенция со стороны России
- A) 1e, 2b,c, 3a,b
 - B) 1a, 2e, 3a,d
 - C) 1c, 2a,b,d 3e
 - D) 1c,d, 2e, 3a,b
 - E) 1d,e, 2a,b, 3c

5. Согласно Венскому договору, заключенному в 1615 году, австрийским подданным предоставлялось право:

- 1) свободной торговли в османских владениях
 - 2) католикам давалось разрешение на строительство церкви
 - 3) разрешалось открыт посольство в Стамбуле
 - 4) создать постоянные торговые поселения в Анатолии
- A) 1,2 B) 2,3 C) 3,4 D) 1,4 E) 2,4

6. Османский султан, пришедший ко власти в результате восстания Патрона Халила

- A) Ахмед I
- B) Ахмед III
- C) Ибрагим I
- D) Махмуд I
- E) Селим III

7. Прочитайте текст и ответьте на вопрос.

- Османский султан в ответ на оккупацию Крыма объявил войну России. Австрия, стремившаяся захватить новые территории на Балканском полуострове, подключилась к войне в качестве союзника России. Османское государство вынуждено было вести войну на двух фронтах. Австрия захватила Белград, а Россия - Аккерман, Бендеры и крепость Измаил. Османское государство вынуждено было заключить мир. Согласно Ясскому мирному договору, Османское государство подтвердило оккупацию Россией Крымского ханства. Река Днестр стала границей между двумя государствами. Россия окончательно укрепилась на Черном море. Таким образом, Ясский мирный договор еще более сокрушил мощь Османского государства, создав условия для новых завоеваний России.

Причина поражения Османов?

- A) Ведение войны на двух фронтах
- B) Оккупация Крыма со стороны России
- C) Потеря Черноморских побережий
- D) Начала войны Сефевидов против Османов
- E) Расширение национально-освободительной войны на Балканах против Османской империи

8. Укажите Османского султана, проводивший нижеуказанных реформ:

- В первую очередь, для изучения европейского опыта в Европу были направлены делегации. За основу французский опыт
- начались проведение в жизнь реформы, получившие название «Низами-джедид» («Новый порядок»).
- Предпочтение было отдано проведению в первую очередь военной реформы. Реформы проводились при участии шведских и французских военных.
- Для возмещения расходов армии была создана специальная казна. С целью реорганизации флота были построены корабли нового типа. Расширилась сеть военно-инженерной школы.

- A) Селим III
- B) Ахмед I
- C) Ахмед I
- D) Махмуд I
- E) Ахмед III

9. На основе карты найдите территорию, которую потеряла Османская империя в XVIII веке:



- A) Венгрия
- B) Сербия
- C) Крым
- D) Северный Кавказ
- E) Босния

10. Условия какого договора указано ниже:

- Азовская крепость отошла к России.
- Османское государство сохранило право держать на Черном и Азовском морях торговые суда и военную флотилию.
- Оба государства дали гарантию на не вторжение на территорию Северного Кавказа

- A) Белград
- B) Кичик Кайнарджа
- C) Яссы
- D) Пожареватск
- E) Васвар

11. На основе картины найдите названия сражения произошедшим между Османами и русскими.



1770-й год

- A) Кагул
- B) Чешме
- C) Измаил
- D) Ларга
- E) Вена

12. Не относятся к условиям Кичик Кайнарджайского договора:

- A) территории между реками Днепр и Южный Буг перешли к России.
- B) Российские торговые суда получили право свободно плавать на Черном море, в Босфорском проливе и Дарданеллах.
- C) Впервые в истории Османское государство вынуждено было платить контрибуцию как побежденное государство.
- D) Кабарда перешла к России
- E) Османское государство подтвердило оккупацию Россией Крымского ханства

13. Не относятся к мирным договорам подписанные между Османами и Австрией:

- A) Яссы
- B) Васвар
- C) Карловица
- D) Белград
- E) Пожареватск

14. Не верна хронологическая информация:

- A) 1683 – Сражение при Вене
- B) 1770 – договор между Османами и Францией
- C) 1699 – Карловицкий мир
- D) 1792 - Реформы «Низами джадид»
- E) 1718 – Пожареватский договор

15. Укажите результат нижеуказанных данных.

В XVIII веке в Османской империи...

- *в социально-экономической жизни общества, в политической системе также кризис все больше углублялся.*
 - *Чрезмерное расточительство высших кругов, чинимые ими произвол и бесчинства, безразличие к нуждам народа вызвали в стране волну протеста.*
 - *Ухудшение экономического положения в стране, рост взяточничества и хищений в дворцовых и правительственных кругах.*
 - *военные неудачи*
- A) Был подписан Карловицкий мир с Европейскими державами
B) Создало условия для раздела Османской империи между Францией и Англией
C) Началось восстание янычаров в Станбуле под руководством Патрона Халила
D) Началось «Эпоха тюльпанов»
E) В результате восстания султан Селим III был низложен

16. Закономерность нарушена:

- A) Прутский поход – Победа Османов
B) «Эпоха тюльпанов» – Реформы Ахмеда III
C) Васварский мир – Выдача контрибуций Австрией
D) Сражение при Ларге – Победа русских
E) «Священный союз» – Осада Станбула

17. Условия кокого договора указано ниже?

- *Правобережная Украина отошла к Османскому государству, а левобережная Украина - к России.*
 - *Река Днепр превратилась в границу между двумя государствами.*
- A) Пожареватск
B) Васвар
C) Белград
D) Яссы
E) Бахчасарай

18. Укажите территорию не входивший в состав Османской империи в XVIII веке:



- A) 5 B) 1 C) 3 D) 2 E) 4

19. В отличие от Каджаров, Османы:

- A) Вели войны с Россией
- B) Сохраняли дипломатические отношения с Европейскими державами
- C) Завершили завоевание Индии
- D) Являлись главными целями «Восточного вопроса»
- E) Через Великий Шельковый путь сохраняли тесные связи с Европой

20. Завершите последовательность.



- A) Белградский мир
- B) Васварский договор
- C) Карловицкий мир
- D) Осада Вены
- E) Парижский мир

