

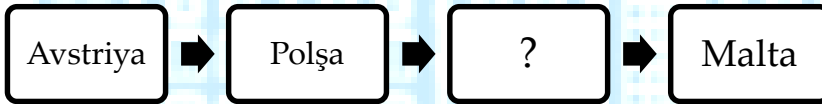
BAKI MODERN MƏKTƏBİ

KİÇİK SUMMATİV QIYMƏTLƏNDİRMƏ

FƏNN	SİNİF	TARİX	VARIANT	ŞAĞİRD	Qiymət
ÜMUMİ TARİXİ	8A_____	01.2016	A		

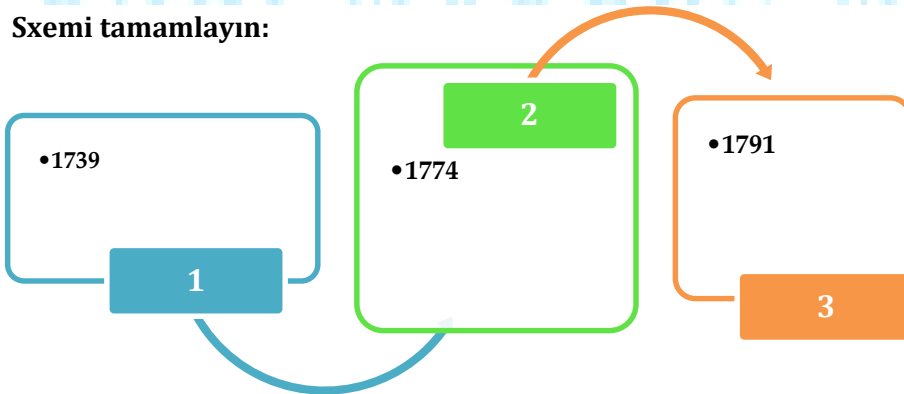
1	2	3	4	5	6	7	8	9	10	11	12	13	14	15	16	17	18	19	20
(a)	(a)	(a)	(a)	(a)	(a)	(a)	(a)	(a)	(a)	(a)	(a)	(a)	(a)	(a)	(a)	(a)	(a)	(a)	(a)
(b)	(b)	(b)	(b)	(b)	(b)	(b)	(b)	(b)	(b)	(b)	(b)	(b)	(b)	(b)	(b)	(b)	(b)	(b)	(b)
(c)	(c)	(c)	(c)	(c)	(c)	(c)	(c)	(c)	(c)	(c)	(c)	(c)	(c)	(c)	(c)	(c)	(c)	(c)	(c)
(d)	(d)	(d)	(d)	(d)	(d)	(d)	(d)	(d)	(d)	(d)	(d)	(d)	(d)	(d)	(d)	(d)	(d)	(d)	(d)
(e)	(e)	(e)	(e)	(e)	(e)	(e)	(e)	(e)	(e)	(e)	(e)	(e)	(e)	(e)	(e)	(e)	(e)	(e)	(e)

1. "Müqəddəs birliyə" daxil olan dövlətlərin sırasını tamamlayın:



- A) Venesiya
- B) Almaniya
- C) Macarıstan
- D) Hollandiya
- E) Fransa

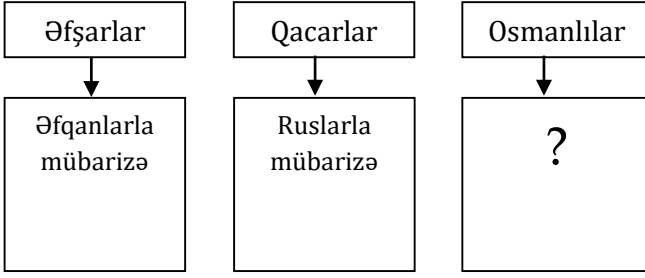
2. Sxemi tamamlayın:



- A) 1-Vasvar, 2-Vyana, 3-Belqrad
- B) 1-Paris, 2-London, 3-Berlin
- C) 1-Belqrad, 2-Kiçik Qaynarca, 3-Yassı
- D) 1-Yassı, 2-Vasvar, 3-Paris
- E) 1- Kiçik Qaynarca, 2- Belqrad, 3- Vasvar

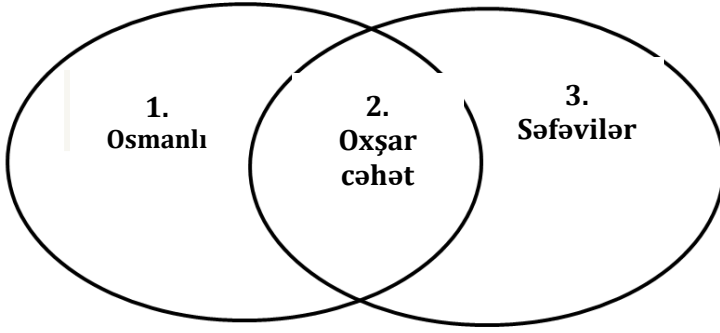
3. Sxemi tamamlayın :

XVIII əsrdə....



- A) Moğollarla mübarizə
- B) Samuraylarla mübarizə
- C) Fransa ilə mübarizə
- D) Ərəblərlə mübarizə
- E) Səfəvilərlə mübarizə

4. Venn diaqramı əsasında Osmanlı və Səfəvilər dövlətlərini müqayisə edin:



- a) Avropa dövlətləri ilə diplomatik münasibətlərin saxlanması
 - b) Rusiya ilə müqavilələrin imzalanması
 - c) Avstriya ilə müharibələrin aparılması
 - d) XVIII əsrdə ölkədə üsyanların qalxması
 - e) Rusiyanın hərbi təcavüzünə məruz qalması
- A) 1e, 2b,c, 3a,b
 - B) 1a, 2e, 3a,d
 - C) 1c, 2a,b,d 3e
 - D) 1c,d, 2e, 3a,b
 - E) 1d,e, 2a,b, 3c

5. 1615-ci ildə bağlanan Vyana müqaviləsi ilə Avstriya təbəələrinə verilmiş hüquqlar:

- 1) Osmanlı mülklərində sərbəst ticarət etmək hüququ
 - 2) Katoliklərə kilsə tikməyə icazə verildi
 - 3) İstanbulda səfirlik açılmasına razılıq əldə olundu
 - 4) Anadoluda daimi ticarət məskənlərinin yaradılmasına icazə verildi
- A) 1,2 B) 2,3 C) 3,4 D) 1,4 E) 2,4

6. Patron Xəlilin üsyanı nəticəsində hakimiyyətə çıxmış Osmanlı sultanı:

- A) I Əhməd
- B) III Əhməd
- C) I İbrahim
- D) I Mahmud
- E) III Səlim

7. Mətni oxuyun və suala cavab verin.

- *Krımın işğalına cavab olaraq Osmanlı sultanı 1787-ci ildə Rusiyaya müharibə elan etdi. Balkan yarımadasında yeni ərazilər ələ keçirməyə çalışan Avstriya Rusiyanın müttəfiqi kimi müharibəyə qoşuldu. Osmanlı dövləti iki cəbhədə müharibə aparmalı oldu. Avstriya ordusu Belqradı, Rusiya isə Akkerman, Bender və İzmayıl qalalarını ələ keçirdi. Osmanlı dövləti sülh bağlamağa məcbur oldu. Yassı sülh müqaviləsinə görə Osmanlı dövləti Krım xanlığının Rusiya tərəfindən işğalını təsdiq etdi. Dnestr çayı iki dövlət arasında sərhədə çevrildi. Rusiya Qara dənizdə qəti olaraq möhkəmləndi. Beləliklə, Yassı sülh müqaviləsi Osmanlı dövlətinin qüdrətini daha da sarsıtdı və Rusiyanın yeni işğalları üçün şərait yaratdı.*

Osmanlıların məğlub olmasına səbəb nə idi?

- A) İki cəbhədə müharibə aparması
 - B) Krım xanlığının Rusiya tərəfindən işğal olunması
 - C) Osmanlıların Qara dəniz sahillərini itirməsi
 - D) Səfəvilər dövlətinin Osmanlılara qarşı müharibəyə başlaması
 - E) Balkan yarımadasında Osmanlılara qarşı milli-azadlıq hərəkatlarının genişlənməsi
- 8. Aşağıdakı islahatları həyata keçirmiş Osmanlı sultanını müəyyən edin.:**
- *ilk növbədə, Avropa təcrübəsini öyrənmək üçün Avropa ölkələrinə nümayəndələr göndərildi. Fransa təcrübəsini əsas tutaraq «Ni- zami-cədid» (yeni qayda) adlanan islahatları həyata keçirməyə başladı.*
 - *Hərbi islahatın keçirilməsinə üstünlük verildi. İslahatlar İsveç və Fransa hərbiçilərinin iştirakı ilə həyata keçirilirdi. Ordunun xərclərini ödəmək üçün xüsusi xəzinə yaradıldı.*
 - *Donanmanın yenidən təşkili üçün yeni tipli gəmilər hazırlandı. Hərbi mühəndislik məktəbi genişləndirildi.*
- A) III Səlim
 - B) I Əhməd
 - C) I İbrahim
 - D) I Mahmud
 - E) III Əhməd

9. Xəritə əsasında XVIII əsrdə Osmanlıların itirdiyi ərazini müəyyən edin.



- A) Macarıstan
- B) Serbiya
- C) Krım
- D) Şimali Qafqaz
- E) Bosniya

10. Hansı sülh müqaviləsinin şərtlərində əks edilmişdir:

- Azov qalası Rusiyaya verildi.
 - Osmanlı dövləti Qara və Azov dənizlərində ticarət gəmiləri və hərbi donanma saxlamaq hüququnu özündə saxladı.
 - Hər iki dövlət onların Şimali Qafqaza müdaxilə etməyəcəkləri barədə təminat verdi.
- A) Belqrad
B) Kiçik Qaynarca
C) Yassı
D) Pojerevatsk
E) Vasvar

11. Şəkil əsasında Rusiya və Osmanlılar arasında baş vermiş döyüşü müəyyən edin.



1770-ci il

- A) Kaqul
B) Çeşmə
C) İzmail
D) Larqa
E) Vyana

12. Kiçik Qaynarca sülh müqaviləsinə aid deyil:

- A) Dnepr və Cənubi Buq çayları arasındakı ərazilər Rusiyaya keçdi.
B) Rusiyanın ticarət gəmilərinə Qara dənizdə, Bosfor və Dardanel boğazlarında sərbəst üzmək hüququ verildi.
C) Kabarda Rusiyaya keçdi
D) Osmanlı dövləti tarixdə ilk dəfə olaraq məğlub dövlət kimi təzminat ödəməli oldu
E) Osmanlı dövləti Krım xanlığının Rusiya tərəfindən işğalını təsdiq etdi

13. Osmanlı və Avstriya dövlətləri arasında imzalanmış sülh müqavilələrə daxil deyil:

- A) Yassı
B) Vasvar
C) Karlovitsa
D) Belqrad
E) Pojerevatsk

14. Xronoloji məlumat yanlışdır:

- A) 1683 – Vyana döyüşü
B) 1770 – Fransa və Osmanlı arasında müqavilə imzalanması
C) 1699 – Karlovitsa sülhü
D) 1792 – “Nizami-cədid” islahatları
E) 1718 – Pojerevatsk sülhü

15. Aşağıdakı məlumatların nəticəsini müəyyən edin.

XVIII əsrdə Osmanlı dövlətində...

- cəmiyyətin sosial-iqtisadi həyatında olduğu kimi, siyasi sistemdə də böhran dərinləşməkdə idi
 - Yuxarı dairələrin hədsiz israfçılığı, özbaşınalığı, xalqa biganə münasibəti ölkədə böyük narazılığa səbəb olmuşdu
 - Ölkənin iqtisadi vəziyyətinin pisləşməsi, saray və hökumət dairələrində rüşvətxorluq və talançılığın artması
 - hərbi uğursuzluqlar
- A) Avropa dövlətləri ilə Karlovitsa sülhü imzalandı
B) İngiltərə və Fransa'nın Osmanlı imperiyasının parçalanmasına şərait yaratdı
C) İstanbulda Patron Xəlil'in başçılığı ilə yeniçərlər üsyan qaldırdı
D) "Lalə dövrü" başladı
E) III Səlim üsyan nəticəsində taxtdan devrildi

16. Uyğun deyil:

- A) Prut yürüşü – Osmanlıların qələbəsi
B) "Lalə dövrü" – III Əhməd'in islahatları
C) Vasvar sülhü – Avstriya təzminat ödədi
D) Larqa döyüşü – Rusların qələbəsi
E) "Müqəddəs birlik" – İstanbulun mühasirəsi

17. Aşağıdakı şərtlər hansı müqavilədə əks edilmişdir?

- Sağ sahil Ukraynası Osmanlı dövlətinə, sol sahil Ukraynası Rusiyaya verildi.
 - Dnepr çayı iki dövlət arasında sərhədə çevrildi.
- A) Pojarevatsk
B) Vasvar
C) Belqrad
D) Yassı
E) Bağçasaray

18. XVIII əsrdə Osmanlı imperiyasının tərkibinə daxil olmayan ərazini müəyyən edin.

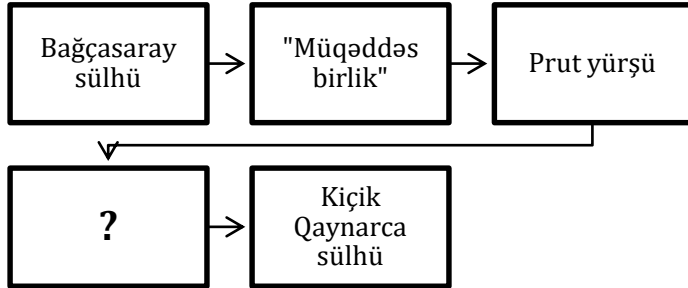


- A) 5 B) 1 C) 3 D) 2 E) 4

19. Qacarlardan fərqli olaraq Osmanlılar:

- A) Rusiya ilə müharibələr aparmışlar
- B) Avropa dövlətləri ilə diplomatik əlaqələr saxlayırdılar
- C) Hindistanın işğalını başa çatdırmışdılar
- D) "Şərqi məsələsi"nin əsas hədəfinə çevrilmişdi
- E) Böyük İpək yolu vasitəsilə Qərblə ticarət əlaqələri saxlayırdılar

20. Ardıcılığı tamamlayın.



- A) Belqrad sülhü
- B) Vasvar müqaviləsi
- C) Karlovitsa sülhü
- D) Vyana müqaviləsi
- E) Paris sülhü

