

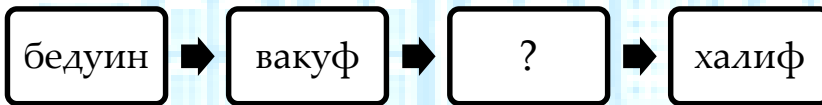
БАКИ MODERN МƏКТƏВІ

МАЛОЕ СУММАТИВНОЕ ОЦЕНИВАНИЕ

ПРЕДМЕТ	КЛАСС	ДАТА	ВАРИАНТ	УЧЕНИК	ОЦЕНКА
ВСЕОБЩАЯ ИСТОРИЯ	7P__	01.2016	A		

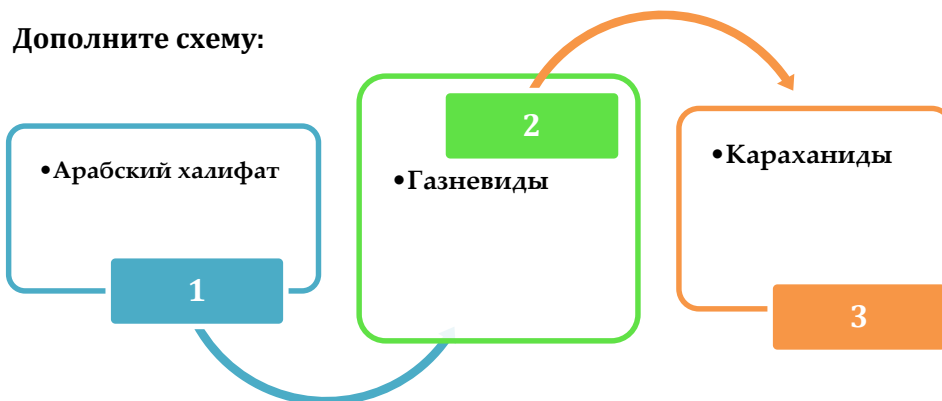
1	2	3	4	5	6	7	8	9	10	11	12	13	14	15	16	17	18	19	20
(a)	(a)	(a)	(a)	(a)	(a)	(a)	(a)	(a)	(a)	(a)	(a)	(a)	(a)	(a)	(a)	(a)	(a)	(a)	(a)
(b)	(b)	(b)	(b)	(b)	(b)	(b)	(b)	(b)	(b)	(b)	(b)	(b)	(b)	(b)	(b)	(b)	(b)	(b)	(b)
(c)	(c)	(c)	(c)	(c)	(c)	(c)	(c)	(c)	(c)	(c)	(c)	(c)	(c)	(c)	(c)	(c)	(c)	(c)	(c)
(d)	(d)	(d)	(d)	(d)	(d)	(d)	(d)	(d)	(d)	(d)	(d)	(d)	(d)	(d)	(d)	(d)	(d)	(d)	(d)
(e)	(e)	(e)	(e)	(e)	(e)	(e)	(e)	(e)	(e)	(e)	(e)	(e)	(e)	(e)	(e)	(e)	(e)	(e)	(e)

1. Дополните понятия, относящиеся к арабам:



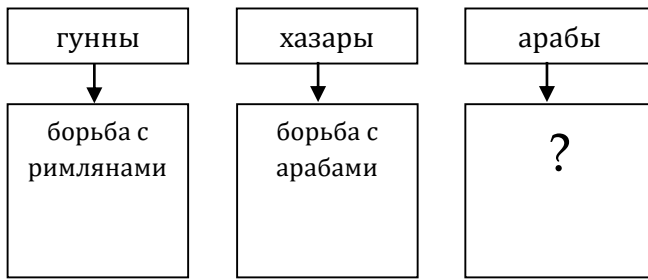
- A) игта
- B) Великий канал
- C) шахиншах
- D) хостак
- E) Зороастризм

2. Дополните схему:



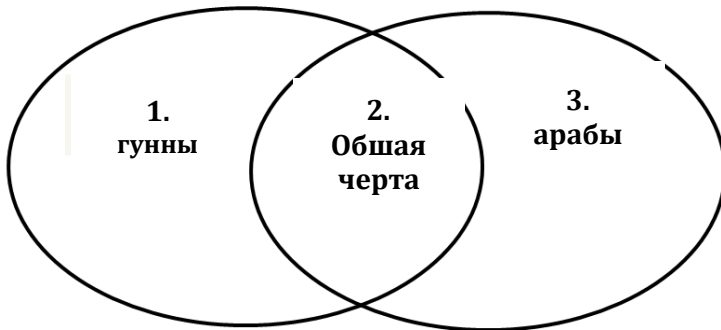
- A) 1-Истеми, 2-Алптегин, 3-Аспарух
- B) 1-Харун ар-Рашид, 2-Ахсувар, 3-Хосров Ануширеван
- C) 1-Абу Бекр, 2-Султан Махмуд, 3-Гутлуг Билге Кадир
- D) 1- Хосров Ануширеван, 2- Аспарух, 3-Билге
- E) 1- Султан Махмуд, 2- Билге, 3- Харун ар-Рашид

3. Дополните схему:



- A) борьба с Дунайскими булгарами
- B) борьба с империей Суй
- C) борьба с Западной Гуннской империей
- D) борьба с Белыми гуннами
- E) борьба с Византией

4. Сравните на основе диаграммы Венна гуннов и арабов:



- a) Великое переселение народов
 - b) Образование халифата
 - c) Война с Византией
 - d) Завоевание Испании
 - e) Сражение при Каталаун
- A) 1e, 2b,c, 3a,b
 - B) 1a, 2e, 3a,d
 - C) 1a,e, 2c, 3b,d
 - D) 1b,c, 2a,c, 3d,e
 - E) 1d,e, 2a,b, 3c

5. В ходе завоевательных войн арабами, перестал существовать империя:

- A) Сасанидов
- B) Византия
- C) Белые гунны
- D) Хазарский каганат
- E) Османы

6. Не верно указан земельная собственность в Арабском халифате:

- A) мюльк
- B) диван
- C) общинные
- D) дастакерд
- E) вакуф

7. Прочитайте текст и ответьте на вопрос.

- В 732 году в битве при Пуатье франки смогли остановить военные походы арабов. Сменившая Омейядов династия Аббасидов (750-1258) продолжила захватническую политику. Они перенесли столицу в город Багдад, в связи с этим в истории Аббасиды стали известны как Багдадский халифат. Во времена их правления начались широкие выступления населения. Самым крупным среди них было движение хуррамитов в Азербайджане. Это движение, возглавляемое народным героем Азербайджана Бабеком, значительно ослабило Халифат.

В каком направлении поход арабов был приостановлен со стороны франков?

- A) Западной Европы
- B) Северная Африка
- C) Центральная Азия
- D) Восточная Европа
- E) Малая Азия

8. Хронологическая информация не верна:

- A) 661 – приход ко власти Аббасидов
- B) 732 – сражение при Пуатье
- C) 630 – возникновение Арабского государства
- D) 610 – возникновение Исламской религии
- E) 632 – начала правления халифов

9. Укажите территорию, которая не входила в состав Арабского халифата:



- A) 4
- B) 1
- C) 5
- D) 7
- E) 6

10. Государства, которые возникли в ходе распада Халифата:

- 1) Ширваншахи
 - 2) Сефевиды
 - 3) Тимуриды
 - 4) Саманиды
 - 5) Гараханиды
- A) 1,4,5 B) 2,3,4 C) 1,3,5 D) 3,4,5 E) 1,2,3

11. Найдите на основе рисунков.



1



2

- A) 1-халифы, 2-«корабль пустыни»
- B) 1-бедуины, 2-«грузовой корабль»
- C) 1-мюлкадары, 2-«лучники»
- D) 1-Аббасиды, 2-наемники
- E) 1-Тулуниды, 2-игтадары

12. Нижеуказанные относятся:

- охватывала земли от озера Балхаш до гор Гиндукуша. Столицами государства были города Гашгар, Баласагун и Узген.

- A) Равваиды
- B) Саманиды
- C) Газневиды
- D) Саджиды
- E) Гараханиды

13. В сражении при Данданакан победили:

- A) селджуки
- B) саманиды
- C) гараханиды
- D) газневиды
- E) хазары

14. Не относится к числу стран, приобретавшие самостоятельность в ходе ослабления Халифата:

- A) Кордова
- B) Индия
- C) Египет
- D) Тунис
- E) Алжир

15. Аббасидскому халифату был положен конец со стороны:

- A) селджуков
- B) уйгуров
- C) монголов
- D) сасанидов
- E) гараханидов

16. Закономерность нарушена:

- A) Аббасиды - Багдад
- B) Омеййады - Дамаск
- C) Саманиды - Бухара
- D) Гарахадиды - Гашгар
- E) Газневиды - Ктесифон

17. В период Аббасидов произошло:

- A) Сражение при Пуатье
- B) Начала распространения Ислама
- C) Конец существования Сасанидов
- D) Переезд пророка Мухамеда из Мекки в Медину
- E) Образование Кордовского халифата

18. На основе карты и направления стрелки укажите страну, куда был сделан поход арабами?

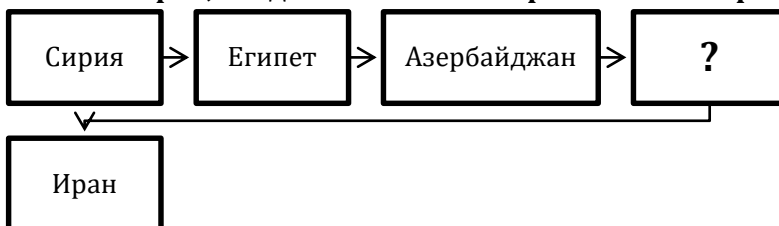


- A) Испания
- B) Индия
- C) Египет
- D) Россия
- E) Сирия

19. В Арабском халифате, у той части населения, которая не приняла ислам, взимался подушный налог:

- A) хумс
- B) зякат
- C) игта
- D) джизья
- E) диван

20. Дополните стран, входившие в состав Арабского халифата:



- A) Тунис
- B) Китай
- C) Франция
- D) Англия
- E) Россия