

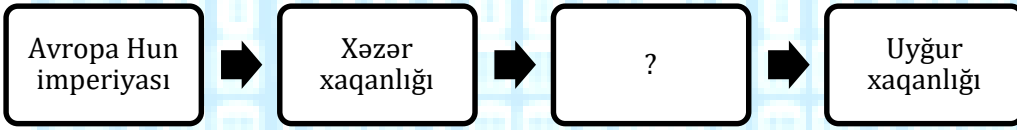
BAKI MODERN MƏKTƏBİ

KİÇİK SUMMATİV QIYMƏTLƏNDİRMƏ

FƏNN	SİNİF	TARİX	VARIANT	ŞAĞİRD	Qiymət
ÜMUMİ TARİXİ	7A_____	01.2016	A		

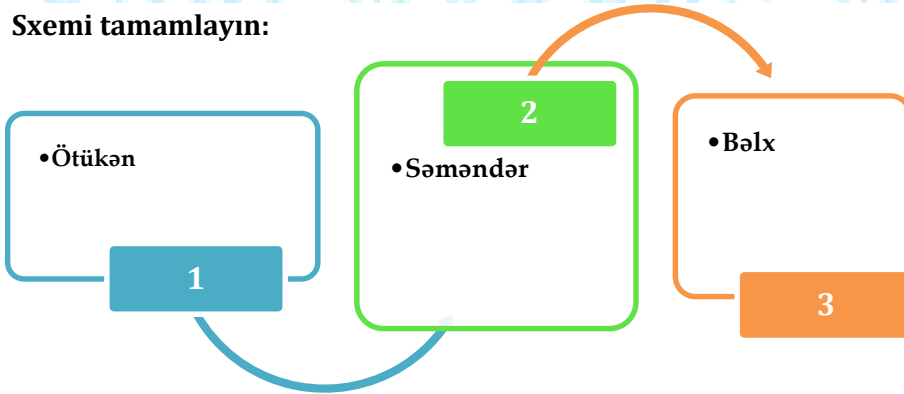
1	2	3	4	5	6	7	8	9	10	11	12	13	14	15	16	17	18	19	20
(a)	(a)	(a)	(a)	(a)	(a)	(a)	(a)	(a)	(a)	(a)	(a)	(a)	(a)	(a)	(a)	(a)	(a)	(a)	(a)
(b)	(b)	(b)	(b)	(b)	(b)	(b)	(b)	(b)	(b)	(b)	(b)	(b)	(b)	(b)	(b)	(b)	(b)	(b)	(b)
(c)	(c)	(c)	(c)	(c)	(c)	(c)	(c)	(c)	(c)	(c)	(c)	(c)	(c)	(c)	(c)	(c)	(c)	(c)	(c)
(d)	(d)	(d)	(d)	(d)	(d)	(d)	(d)	(d)	(d)	(d)	(d)	(d)	(d)	(d)	(d)	(d)	(d)	(d)	(d)
(e)	(e)	(e)	(e)	(e)	(e)	(e)	(e)	(e)	(e)	(e)	(e)	(e)	(e)	(e)	(e)	(e)	(e)	(e)	(e)

1. Erkən orta əsrlərdə yaranmış türk dövlətlərinin sırasını tamamlayın:



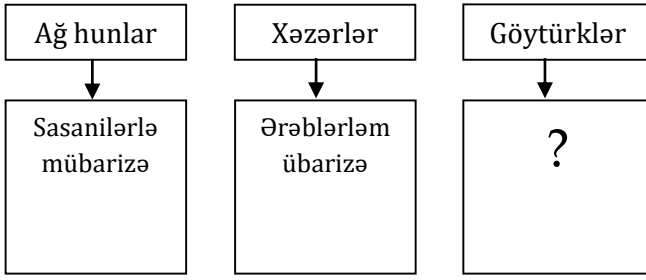
- A) Göytürk imperiyası
- B) Osmanlı imperiyası
- C) Böyük Moğol imperatorluğu
- D) Sasanilər imperiyası
- E) Bizans imperiyası

2. Sxemi tamamlayın:



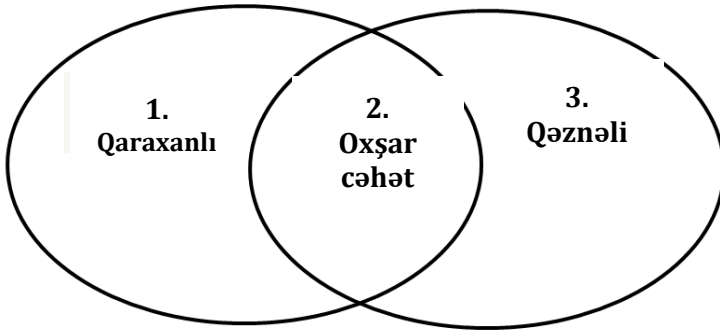
- A) 1-Ağ Hun, 2-Xəzər, 3-Uyğur
- B) 1-Uyğur, 2-Qaraxanlı, 3-Göytürk
- C) 1-Göytürk, 2-Xəzər, 3-Ağ Hun
- D) 1-İdil Bulqar, 2-Göytürk, 3-Qəznəli
- E) 1-Qaraxanlı, 2- Avropa Hun, 3- Dunay Bulqar

3. Sxemi tamamlayın :



- A) Monollarla mübarizə
- B) Səlcuqlarla mübarizə
- C) Qaraxanlılarla mübarizə
- D) Qərbi romalılarla mübarizə
- E) Çin ilə mübarizə

4. Venn diaqramı əsasında Qaraxanlı və Qəznəli dövlətlərini müqayisə edin:



- a) 927-1212-ci illərdə mövcud olmuşdur
 - b) Türk-müsəlman dövlətləri olmuşdur
 - c) Hökmdarları "sultan" titulu daşıyırdı
 - d) Mərkəzi Asiyada meydana gəlmişdir
 - e) 962-1187-ci illərdə mövcud olmuşdur
- A) 1e, 2b,c, 3a,b
 - B) 1a, 2e, 3a,d
 - C) 1a, 2b,d, 3c,e
 - D) 1c,d, 2e, 3a,b
 - E) 1d,e, 2a,b, 3c

5. Avropa Hun imperatorlarını müəyyən edin:

- 1) Attila
 - 2) İltəriş
 - 3) Qutluq Bilgə
 - 4) Balamir
- A) 1,4 B) 2,3 C) 3,4 D) 1,2 E) 2,4

6. Musəvilik (iudaizm) dinini dövlət dini elan etmiş türk dövləti:

- A) İdil Bulqar
- B) Göytürk
- C) Samanlı
- D) Xəzər
- E) Qaraxanlı

7. Mətni oxuyun və suala cavab verin.

- Çin qaynaqlarında Juan-Juan adlandırılan bu tayfa Qərbə tərəf köç edərək Qafqaza, oradan da Dunaya doğru irəliləmişlər. 562-ci ildə Mərkəzi Avropada Bayan xan tərəfindən imperatorluğunun əsası qoyulmuşdu. Sasanilərlə birlikdə iki dəfə Konstantinopolu mühasirəyə almışlar, lakin nəticə əldə edə bilməmişdilər. Bu uğursuzluqdan sonra zəifləyən xaqanlıq 805-ci ildə franklar tərəfindən süquta uğradılmışdır.

Hansı türk dövlətindən söhbət açılır??

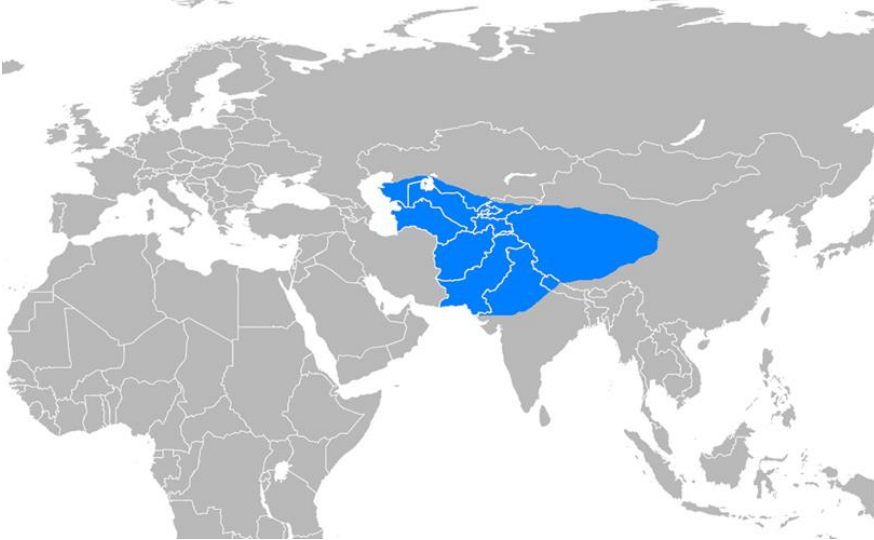
- A) Avar xaqanlığı
- B) Xəzər xaqanlığı
- C) II Göytürk imperatorluğu
- D) Avropa Hun imperatorluğu
- E) Uyğur xaqanlığı

8. Aşağıdakı məlumatların aid olduğu türk dövləti:

- Orxon və Selenqa çayları sahillərində yaşayırdılar
- Ordu şəhəri dövlətin paytaxtı oldu
- Dövlətin ən güclü hökmdarı Moyun Çur olmuşdur
- Mani təlimi rəsmi dövlət dini kimi qəbul edilmişdi
- Sadə xalq bu təlimi qəbul etməkdə tərəddüd edirdi. Nəticədə hakim təbəqə ilə xalq arasında uçurum yarandı və dövlət zəiflədi.
- Təbə edilən xalqlar üsyan qaldırdı. Üsyan qaldıran qırğızlar 842-ci ildə dövlətinin varlığına son qoydular.

- A) Uyğur xaqanlığı
- B) Qaraxanlı dövləti
- C) Qəznəli dövləti
- D) Samanlı dövləti
- E) Xarəzmşahlar dövləti

9. Xəritədə ərazisi əks edilmiş türk dövlətini müəyyən edin.



- A) Xəzər xaqanlığı
- B) Dunay Bulqar dövləti
- C) Ağ Hun imperatorluğu
- D) Avropa Hun imperatorluğu
- E) Avar xaqanlığı

10. Aşağıdakı məlumatlar hansı türk dövlətinə aid edilir?

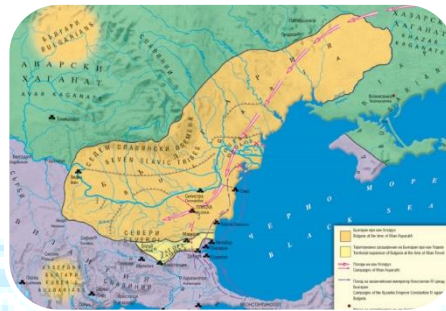
- 630-965-ci illərdə mövcud olan dövlətin ikinci paytaxtı İdil şəhəri idi. Şərqi Avropanın ilk feodal dövlətlərindən olan bu dövlət I Göytürk dövlətinin süqutundan sonra yaranmışdır. Dövləti irsi hakimiyyətə malik olan "xaqan" idarə edirdi. Qara dənizin şimalını və Qafqazdakı torpaqları əhatə edən xaqanlıq Bizans, Sasani və Ərəb dövləti ilə hərbi, siyasi və ticarət əlaqələrində olmuşlar. Bizans-Sasani müharibələrində Bizansın tərəfini saxlayan bu türklər Sasani dövlətinin tənəzzülündə mühüm rol oynadılar. Sasaniləri süquta uğradan müsəlmanlar türklərlə qarşı-qarşıya gəldilər. Türklərin inadlı müqaviməti Şərqi Avropa xalqlarını ərəb hücumlarından xilas etdi.
- A) Xəzər xaqanlığı
B) Avropa Hun imperatorluğu
C) Oğuz dövləti
D) Xarəzmşahlar dövləti
E) Ağ Hum imperatorluğu

11. Xəritə və məlumatlar əsasında türk dövlətlərini müəyyən edin.



1. Azərbaycana tez-tez yürüşlər edən türklər

- A) 1-Göytürklər, 2-Avropa Hunları
B) 1-Xəzərlər, 2-Dunay Bulqarları
C) 1-Uyğurlar, 2-Qaraxanlılar
D) 1-Oğuzlar, 2-Qəznəvilər
E) 1-İdil Bulqarları, 2-Samanlılar



2. Asparux xan tərəfindən yaradılmış türk dövləti

12. 451-ci ildə Qalliyada (müasir Fransa) hunlarla romalılar arasında baş vermiş döyüş:

- A) Puatye
B) Orlean
C) Suasson
D) Azenkur
E) Katalaun

13. Roma papasının xahişi ilə Attila:

- A) Roma şəhərini dağıtmadı
B) Xristianlar üzərinə vergi təyin etmədi
C) Bizans imperiyasını süquta uğratmadı
D) Avropada yeni xristian dövlətinin yaradılmasına razılıq verdi
E) Ələ keçirilmiş xristian əsirləri azad etdi

14. Xronoloji məlumat yanlışdır:

- A) 552 – I Göytürk dövlətinin yaranması
B) 870 – Avropa Hun dövlətinin yaranması
C) 790 – Xəzər xaqanlığında yeni qəbul edilməsi
D) 1000 – Oğuz dövlətinin süqut etməsi
E) 434 – Konstans sülhünün imzalanması

15. Aşağıdakı məlumatlar hansı türk dövlətindən bəhs edir?

- *Mərkəzi Asiyada yaranmış ilk müsəlman türk dövlətidir. Dövlətin əsasını Bilgə Gül Qədir xan qoymuşdur. O özünü "böyük" xan adlandırmışdır. Satuk Qara xanın dövründə İslam dinini rəsmi dövlət dini elan edən türklər həm islama, həm də soy köklərinə həmişə bağlı olmuşlar. Bu dövlətini tarixdə İlkxanlılar dövləti də adlandırırlar. Bu sülalə tarixdə Əfrasiyab sülaləsi kimi də tanınır. Qaşqar, Balasaqun və Uzgen şəhərləri ayrı-ayrı vaxtlarda dövlətin paytaxtı olmuşdur.*

- A) Uyğur xaqanlığı
- B) Qəznəli dövləti
- C) Qaraxanlı dövləti
- D) Samanlı dövləti
- E) Xarəzmşahlar dövləti

16. Uyğun deyil:

- A) Avropa Hun dövləti- Bizansla müharibə
- B) Qəznəli dövləti- Hindistana yürüşlər
- C) Xəzər xaqanlığı - Şimali Qafqaz
- D) Ağ Hun imperiyası - 567-ci ildəsüqutu
- E) Xarəzşahlar dövləti - Xristianlığın yayılması

17. Şəhərləri "balıq" adlandıran türklər:

- A) Xəzərlər
- B) Ağ hunlar
- C) Qaraxanlılar
- D) Samanlılar
- E) Göytürklər

18. Avropa Hun imperatorluğunun ərazisini müəyyən edin.



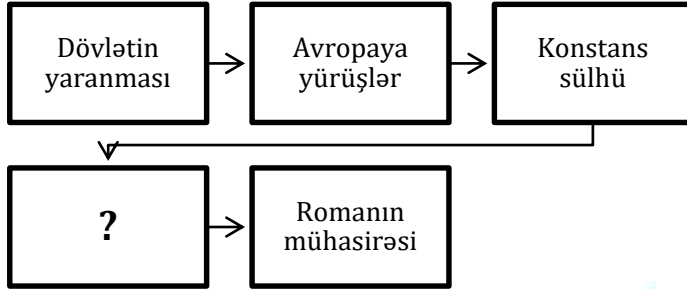
- A) 5
- B) 2
- C) 3
- D) 1
- E) 4

19. Avropa hunlarından fərqli olaraq Ağ hunlar:


- A) "Xalqların Böyük köçü"ndə iştirak etmişdilər
- B) IV əsrdə dövlət yaratmışdılar
- C) Mani təlimini təbliğ edirdilər
- D) Hindistana yürüşlər edirdilər
- E) Slavyanlarla mübarizə aparmışlar

20. Ardıcılığı tamamlayın.

Avropa Hun imperatorluğu...



- A) Katalaun döyüşü
- B) "Xalqların Böyük köçü"nün başlaması
- C) Konstantinopolun ələ keçirilməsi
- D) Sasanilərlə müharibə
- E) "Turan taktikası"



BAKİ MODERN MƏKTƏBİ