

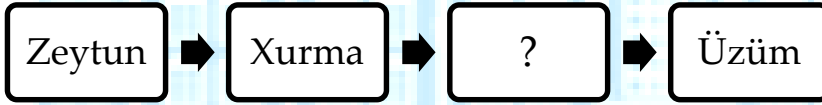
# BAKI MODERN MƏKTƏBİ

## KİÇİK SUMMATİV QIYMƏTLƏNDİRMƏ

FƏNN	SİNİF	TARİX	VARIANT	ŞAĞİRD	Qiymət
ÜMUMİ TARİXİ	6A1	01.2016	A		

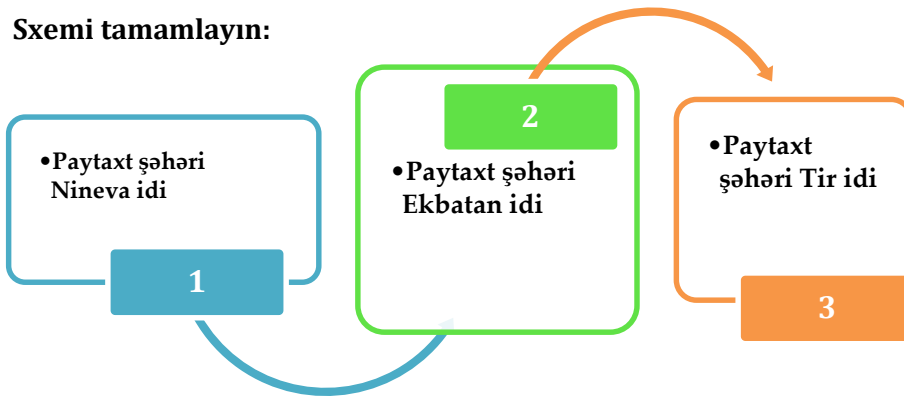
1	2	3	4	5	6	7	8	9	10	11	12	13	14	15	16	17	18	19	20
(a)	(a)	(a)	(a)	(a)	(a)	(a)	(a)	(a)	(a)	(a)	(a)	(a)	(a)	(a)	(a)	(a)	(a)	(a)	(a)
(b)	(b)	(b)	(b)	(b)	(b)	(b)	(b)	(b)	(b)	(b)	(b)	(b)	(b)	(b)	(b)	(b)	(b)	(b)	(b)
(c)	(c)	(c)	(c)	(c)	(c)	(c)	(c)	(c)	(c)	(c)	(c)	(c)	(c)	(c)	(c)	(c)	(c)	(c)	(c)
(d)	(d)	(d)	(d)	(d)	(d)	(d)	(d)	(d)	(d)	(d)	(d)	(d)	(d)	(d)	(d)	(d)	(d)	(d)	(d)
(e)	(e)	(e)	(e)	(e)	(e)	(e)	(e)	(e)	(e)	(e)	(e)	(e)	(e)	(e)	(e)	(e)	(e)	(e)	(e)

1. Finikiyalıların əkib-becərdikləri bitkilərin sırasını tamamlayın: :



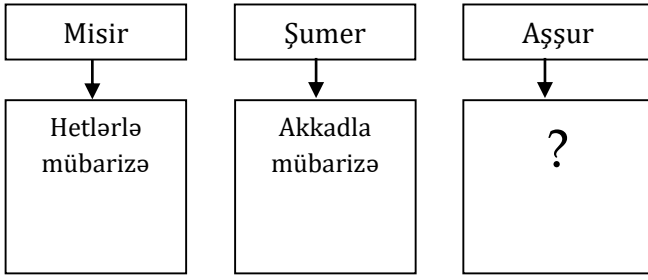
- A) Sidr
- B) Bambuk
- C) Papirus
- D) Şəkər qamışı
- E) Pambıq

2. Sxemi tamamlayın:



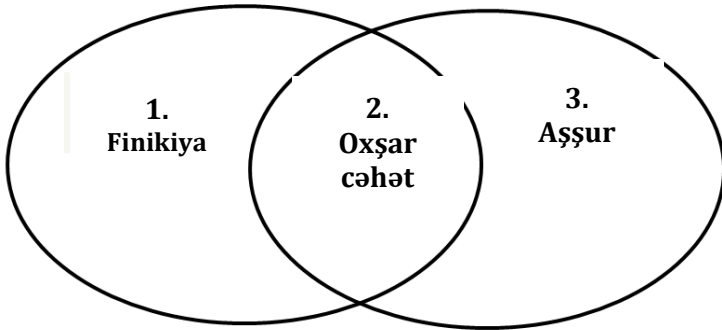
- A) 1-Babil, 2-Misir, 3-Finikiya
- B) 1-Midiya, 2-Babil, 3-Misir
- C) 1-Aşşur, 2-Midiya, 3-Finikiya
- D) 1-Finikiya, 2-Aşşur, 3-Midiya
- E) 1-Misir, 2-Şumer, 3-Aşşur

3. Sxemi tamamlayın :



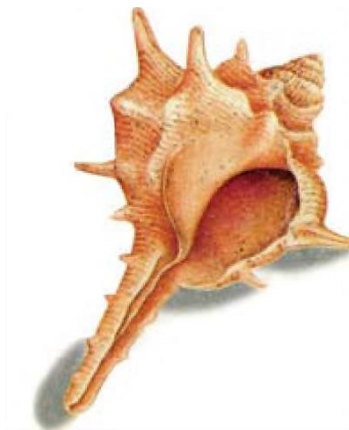
- A) Romalılarla mübarizə
- B) Yunanlarla mübarizə
- C) Hindlilərlə mübarizə
- D) Ərəblərlə mübarizə
- E) Urartu ilə mübarizə

4. Venn diaqramı əsasında Finikiya və Aşşur dövlətlərini müqayisə edin:



- a) Babil və Midiya dövlətləri tərəfindən süquta uğrayıb
  - b) Dəniz ticarəti ilə məşqul olublar
  - c) Qul alveri ilə məşqul olublar
  - d) İşğalçı müharibələr aparıblar
  - e) Mixi yazıları ilə tanış idilər
- A) 1e, 2b,c, 3a,b
  - B) 1a, 2e, 3a,d
  - C) 1b,c, 2e, 3a,d
  - D) 1a,d, 2e, 3c,b
  - E) 1d,e, 2a,b, 3c

5. Aşağıdakı şəkil əsasında müəyyən et:



- A) Finikiyalıların şirəsindən boya hazırladıqları dəniz ilbizinin çanağı
- B) Aşşurların düşmən əsgərlərini məhv etmək üçün hazırladıqları silah
- C) Misirlilərin balıq ovlamaq üçün istifadə etdikləri alət
- D) Midiyalıların hazırladıqları "Midiya yağı"
- E) Babillilərin yaratdıqları dini məbədlər

**6. Midiya hökmdarını müəyyən edin:**

- A) Aşşurbanipal
- B) Hammurapi
- C) II Ramzes
- D) Kaştariti
- E) II Kir

**7. Mətni oxuyun və suala cavab verin.**

- Qədim yunan tarixçisi Herodot yazırdı ki, Astiaq hakimiyyətini itirməkdən çox qorxurdu. O, bir yuxu görmüşdü. Yuxuyozanlar demişdilər ki, gələcəkdə qızından doğulacaq nəvəsi böyüyüb onu taxtdan salacaqdır. Qaydaya görə fars mənşəli şahzadə Midiya taxtına sahib ola bilməzdi. Ona görə də Astiaq qızını fars vilayətinin hakimi Əhəmənilər nəslindən olan I Kambiza ələ verdi. Rəvayətə görə, o, hətta nəvəsi II Kirin öldürülməsi haqqında gizli göstəriş də vermişdi. Güvəndiyi adamlar onun tapşırığını yerinə yetirmədilər, uşaq sağ qaldı və böyüyüb babasına qarşı çıxdı.

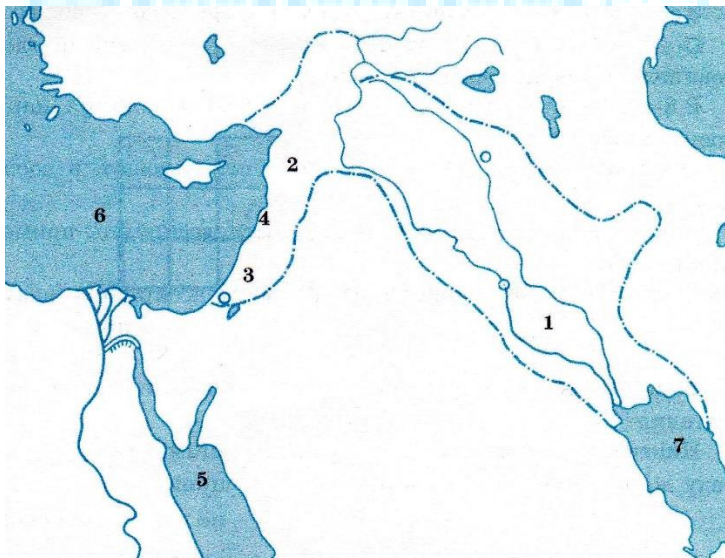
**Bu məlumatlar hansı hadisədən xəbər verir?**

- A) Midiya dövlətinin süqut etməsindən
- B) Midiyada hakimiyyətə Astiaqın çıxmasından
- C) Əhəmənilər dövlətinin süqut etməsindən
- D) Farslarla yunanların müharibəsindən
- E) II Kirin massagetlərlə mübarizəsindən

**8. E.ə. VIII-VII əsrlərdə Aşşur hökmdarları işğal etmişdilər:**

- A) Babil, Suriyanı və Fələstini
- B) Hindistanı, Çini və Mannanı
- C) Urartu, Midiya və Misiri
- D) Finikiya, Nubiya və Babil
- E) Şumer, İran və Parfiyanı

**9. Xəritə əsasında Aşşur dövlətinin ərazisini müəyyən edin.**



- A) 4
- B) 5
- C) 1
- D) 7
- E) 6


**10. Finikiyalılar ixtira edib:**

- A) əlifba
- B) kompas
- C) şahmat
- D) şaduf
- E) beton

**11. Şəkillər əsasında müəyyən edin.**



**1**



**2**

- A) 1-Manna, 2-Misir
- B) 1-Finikiya, 2-Aşşur
- C) 1-Şumer, 2-Midiya
- D) 1-Urartu, 2-Manna
- E) 1-Aşşur, 2-Finikiya

**12. Aşşur dövlətinə aid deyil:**

- A) İşğalçı müharibələr
- B) Qədim kitabxana
- C) "Aslanlar yuvası"
- D) Manna ilə müttəfiq
- E) "Tanrının qapısı"

**13. E.ə. XVI əsrdə İspaniyada, Şimali Afrikada, habelə Kipr, Siciliya, Sardiniya adalarında və başqa ərazilərdə yaratmışdılar:**

- A) Finikiya koloniyaları
- B) Misir ehramları
- C) Şumer şəhər-dövlətləri
- D) Babil zikkuratları
- E) Misir dambaları

**14. Midiyalılar "Midiya yağı" adlandırırdılar:**

- A) Tünd qırmızı boyağı
- B) Nefti
- C) Şüşəni
- D) Zeytun yağını
- E) Xurma ağacını

**15. E.ə. 605-ci ildə:**

- A) Midiya dövləti yarandı
- B) Finikiya dövləti dağıldı
- C) Aşşur dövləti dağıldı
- D) Midiya dövləti dağıldı
- E) Aşşur dövləti yarandı

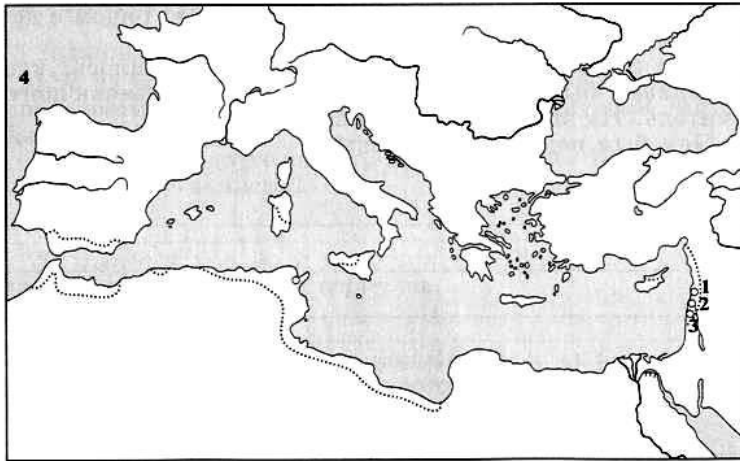
**16. Uyğun deyil:**

- A) Kiaksar – Midiya
- B) Aşşurbanipal – Aşşur
- C) Astiaq – Midiya
- D) II Ramzes – Misir
- E) II Kir - Finikiya

**17. Midiyalılar haqqında yanlışdır:**

- A) Dövləti yaradıb – Deyok
- B) Paytaxtı – Ekbatan
- C) Ərazisi – Müasir İran
- D) Dini – Zərdüştlük
- E) Əsas məşquliyyətləri – Dəniz ticarəti

**18. Xəritə üzərində verilmiş 1,2,3 rəqəmləri hansı şəhərlərin ərazisini göstərir?**

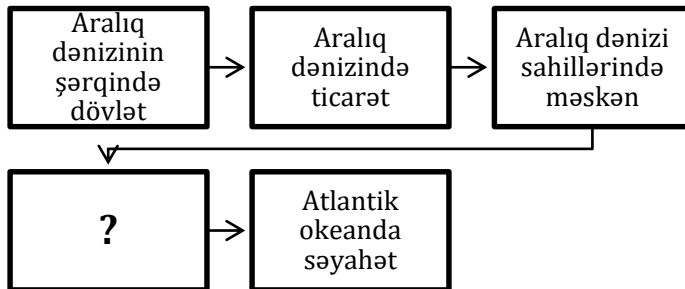


- A) Nineva, Arbela və Kalat
- B) Tir, Sidon və Bibl
- C) Babil, Aşşur və Uruk
- D) Laqaş, Umma, və Ur
- E) Memfis, Fiv və İsgəndəriyyə

**19. Qədim Misirdən fərqli olaraq Aşşur dövləti:**

- A) Mesopatamiya ilə əlaqə saxlayırdı
- B) İşğalçı müharibələr edirdi
- C) Suriya və Fələstini işğal etmişdi
- D) Mixi yazılarından istifadə edirdi
- E) Dəniz ticarətində qul alveri edirdi

**20. Ardıcılığı tamamlayın.**



- A) Afrikanın şimalında Karfagen şəhərinin salınması
- B) Qara dəniz sahillərində ilk dövlətlərin yaranması
- C) Aralıq dənizi sahillərində mədəniyyətin dağılması
- D) Aralıq dənizinin qərbində Roma dövlətinin yaranması
- E) Nil çayının sahilində ilk nomların yaranması