

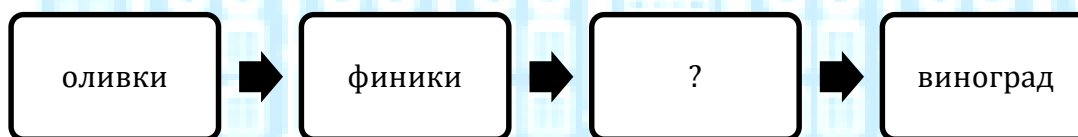
# БАКИ MODERN МƏКТƏВІ

## МАЛОЕ СУММАТИВНОЕ ОЦЕНИВАНИЕ

ПРЕДМЕТ	КЛАСС	ДАТА	ВАРИАНТ	УЧЕНИК	ОЦЕНКА
ВСЕОБЩАЯ ИСТОРИЯ	6Р__	01.2016	А		

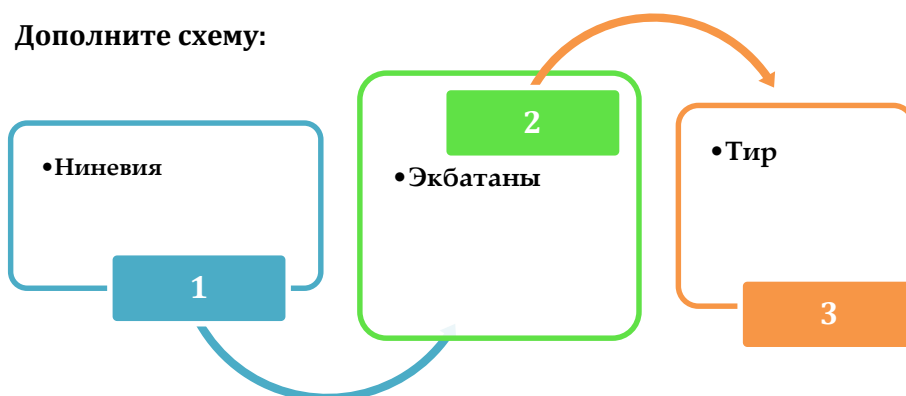
1	2	3	4	5	6	7	8	9	10	11	12	13	14	15	16	17	18	19	20
(a)	(a)	(a)	(a)	(a)	(a)	(a)	(a)	(a)	(a)	(a)	(a)	(a)	(a)	(a)	(a)	(a)	(a)	(a)	(a)
(b)	(b)	(b)	(b)	(b)	(b)	(b)	(b)	(b)	(b)	(b)	(b)	(b)	(b)	(b)	(b)	(b)	(b)	(b)	(b)
(c)	(c)	(c)	(c)	(c)	(c)	(c)	(c)	(c)	(c)	(c)	(c)	(c)	(c)	(c)	(c)	(c)	(c)	(c)	(c)
(d)	(d)	(d)	(d)	(d)	(d)	(d)	(d)	(d)	(d)	(d)	(d)	(d)	(d)	(d)	(d)	(d)	(d)	(d)	(d)
(e)	(e)	(e)	(e)	(e)	(e)	(e)	(e)	(e)	(e)	(e)	(e)	(e)	(e)	(e)	(e)	(e)	(e)	(e)	(e)

1. Дополните хозяйственные растения финикийцев:



- A) кедр
- B) бамбук
- C) папирус
- D) сахарный тростник
- E) хлопок

2. Дополните схему:



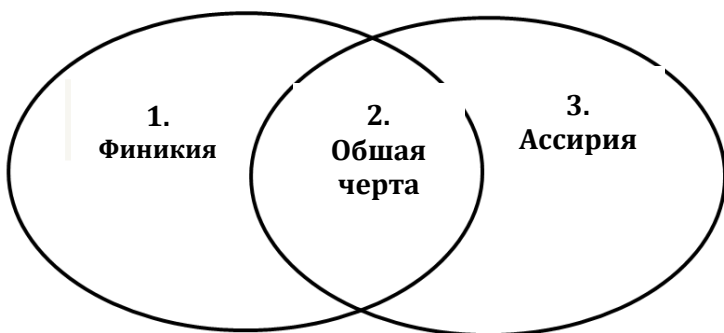
- A) 1-Вавилон, 2-Египет, 3-Финикия
- B) 1-Мидия, 2- Вавилон, 3-Египет
- C) 1-Ассирия, 2-Мидия, 3- Финикия
- D) 1- Финикия, 2-Ассирия,3-Мидия
- E) 1- Египет, 2-Шумер, 3-Ассирия

3. Дополните схему:



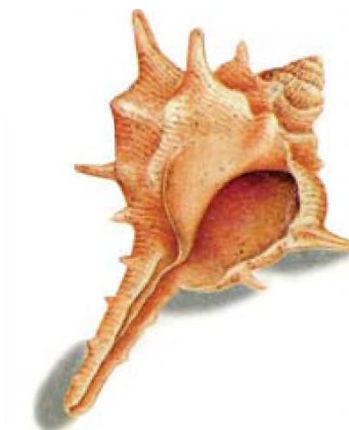
- A) Борьба с Римом
- B) Борьба с греками
- C) Борьба с Индией
- D) Борьба с арабами
- E) Борьба с Урарту

4. Сравните Финикию и Ассирию на основе диаграммы Венна:



- a) Распалась со стороны Вавилона и Мидии
  - b) Занимались морской торговлей
  - c) Вели работорговлю
  - d) Проводили завоевательные войны
  - e) Пользовались клинописью
- A) 1e, 2b,c, 3a,b
  - B) 1a, 2e, 3a,d
  - C) 1b,c, 2e, 3a,d
  - D) 1a,d, 2e, 3c,b
  - E) 1d,e, 2a,b, 3c

5. Укажите на основе картинки:



- A) Финикийцы изготавливали краску из жидкости раковины морского моллюска
- B) Оружия для поражения противников, изготовленный ассирийцами
- C) Орудия труда для ловли рыб, изготавливаемые египтянами
- D) «Мидийское масло» изготавливаемые мидийцами
- E) Религиозные храмы вавилонцев

**6. Укажите Мидийского царя:**

- A) Ашшурбанипал
- B) Хаммурапи
- C) Рамзес II
- D) Каштарити
- E) Кир II

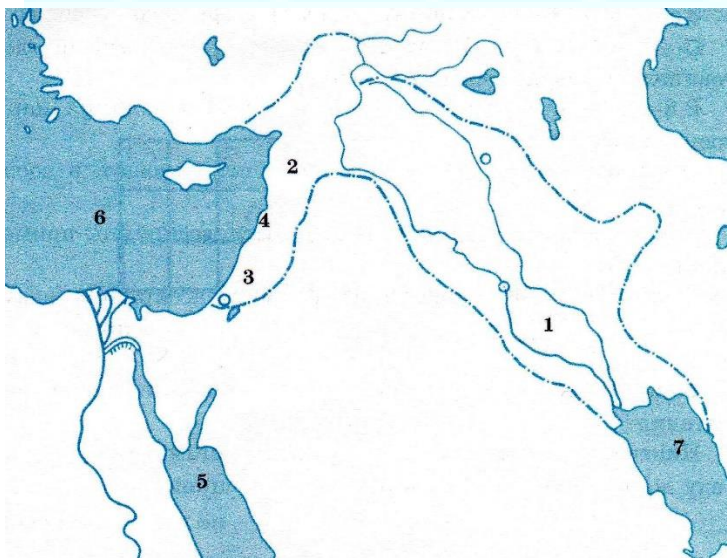
**7. Прочитайте текст и ответьте на вопрос.**

- Древнегреческий историк Геродот писал, что Астиаг всегда опасался потерять власть. Накануне замужества дочери Астиагу приснился сон. Толкователи снов сказали ему, что ребенок, рожденный от дочери, в будущем, повзрослев, свергнет его с престола. По закону, принцы персидского происхождения не могли вступить на престол Мидии. Вот почему Астиаг выдал дочь замуж за правителя персидского происхождения Камбиза I, чтобы в будущем не сбылся его сон. По преданию, когда родился внук Астиага Кир, он даже тайно приказал умертвить его. Но люди, на которых он полагался, не выполнили его поручение, ребенок остался в живых и, повзрослев, выступил против деда.

**О чем идет речь?**

- A) О падении Мидии
  - B) О приходе ко власти Астиага
  - C) О распаде Ахеменидов
  - D) О войне персов с греками
  - E) О борьбе Кира II с массагетами
- 8. В VIII-VII вв. до н.э. Ассирийцами были завоеваны:**
- A) Вавилон, Сирия и Палестина
  - B) Индия, Китай и Манна
  - C) Урарту, Мидия и Египет
  - D) Финикия, Нубия и Вавилон
  - E) Шумер, Иран и Парфия

**9. Найдите территорию Ассирии на основе карты:**




- A) 4
- B) 5
- C) 1
- D) 7
- E) 6


**10. Финикийцы изобрели:**

- A) алфавит
- B) компас
- C) шахматы
- D) шадуф
- E) бетон

**11. Найдите стран на основе картин.**



**1**



**2**

- A) 1-Манна, 2-Египет
- B) 1-Финикия, 2-Ассирия
- C) 1-Шумер, 2-Ассирия
- D) 1-Урарту, 2-Манна
- E) 1-Ассирия, 2-Финикия

**12. Не относится к Ассирии:**

- A) Завоевательные войны
- B) Древняя библиотека
- C) «Логовище львов»
- D) Союз с Манной
- E) «Ворота бога»

**13. В XVI веке до н.э. в Испании, Северной Африке, а также на островах Кипре, Сицилии, Сардинии и других территориях были созданы:**

- A) финикийские колонии
- B) Египетские пирамиды
- C) Шумерские города-государства
- D) Зиккураты вавилонян
- E) дамбы египтян

**14. «Мидийское масло» называлось:**

- A) краситель
- B) нефть
- C) стекло
- D) оливки
- E) финики

**15. В 605-м году до н.э.:**

- A) Возникла Мидия
- B) Распалась Финикия
- C) Распалась Ассирия
- D) Распалась Манна
- E) Возникла Ассирия

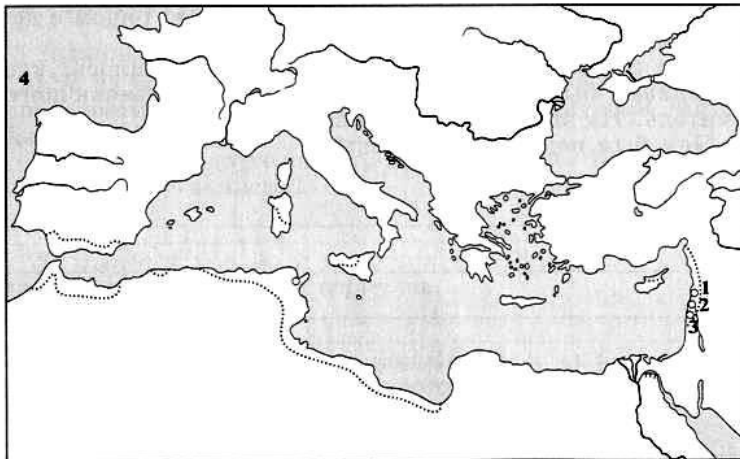
**16. Закономерность нарушена:**

- A) Киаксар – Мидия
- B) Ашшурбанипал – Ассирия
- C) Астиаг – Мидия
- D) Рамзес II – Египет
- E) Кир II – Финикия

**17. Не верна о Мидии:**

- A) Основатель государства - Дейок
- B) Столица - Экбатаны
- C) Территория – современный Иран
- D) Релогия - Зооростризм
- E) Основное занятие – Морская торговля

**18. Цифры- 1,2,3 на карте отображают территорию расположения городов:**



- A) Ниневия, Арбела и Калат
- B) Библ, Сидон Тир
- C) Вавилон, Ашшур и Ниппур
- D) Лагац, Умма и Ур
- E) Мемфис, Фив и Александрия

**19. В отличие от Египта, Ассирия:**

- A) Имела отношения с Месопотамией
- B) Вела завоевательные войны
- C) Завоевала Финикию и Палестину
- D) Пользовалась клинописью
- E) Проводила работорговлю

**20. Дополните последовательность.**



- A) Основание Карфагена в Северной Африке
- B) Образование первых государств на побережьях Черного моря
- C) Разрушение культуры на Средиземноморье
- D) Возникновение города Рима на западном побережье Средиземного моря
- E) Образование первых номов на побережье Нила